



۱ به دنبال اعتراضات در ماجرای چوب و فلک کردن بازرگانان تهران، کدامیک از علما رهبری این ماجرا را بر عهده داشت و خواسته آنان در این جریان چه بود؟

- (۱) آیت الله بهبهانی - تشکیل مجلس شورا  
 (۲) آیت الله بهبهانی - تأسیس عدالت خانه  
 (۳) آیت الله طباطبایی - تشکیل مجلس شورا  
 (۴) آیت الله طباطبایی - تأسیس عدالت خانه

۲ کدام دسته بندی، مربوط به متحدین در جنگ جهانی اول است؟

- (۱) اتریش، آلمان، روسیه، عثمانی  
 (۲) عثمانی، ایتالیا، آلمان، امریکا  
 (۳) آلمان، ایتالیا، ژاپن  
 (۴) آلمان، ایتالیا، اتریش، مجارستان

۳ یک راهنمای تورهای گردشگری می خواهد به کشوری دارای شاخص های بالای توسعه و فرصت های شغلی کافی برای او که با مشکل سالخوردگی جمعیت مواجه نباشد مهاجرت کند. کدام کشور زیر مقصد بهتری برای او به حساب می آید؟

- (۱) آلمان  
 (۲) روسیه  
 (۳) مالزی  
 (۴) ژاپن

۴ در حوادث تاریخی دوران کدام پادشاه، نیروی دریایی انگلستان با ارتش ایران همکاری کرد؟

- (۱) شاه اسماعیل صفوی  
 (۲) شاه عباس صفوی  
 (۳) محمد شاه قاجار  
 (۴) ناصرالدین شاه قاجار

۵ کدام گزینه در ارتباط با موارد زیر صحیح است؟

الف) از موانع استقرار و نهادینه شدن قانون در دوران قاجار است.  
 ب) این روحانی معتقد بود: "افرادی که رهبری انقلاب مشروطه را به دست گرفته اند، به اسلام اعتقادی ندارند."

- (۱) جلوگیری از تدوین و تصویب قانون اساسی - شیخ محمد خیابانی  
 (۲) کاهش رونق اقتصادی و رفاه عمومی - شیخ فضل الله نوری  
 (۳) اختلاف میان رهبران مشروطه - شیخ محمد خیابانی  
 (۴) دخالت بیگانگان - شیخ فضل الله نوری

کدام یک از عوامل زیر از جمله علل داخلی نابرابری به حساب نمی‌آیند؟

- ۱) سلطه و اشغال نظامی در کشور، باورهای غلط، بی‌سوادی و ناآگاهی مردم
  - ۲) غفلت از استعدادها و فرهنگ خود، نبودن وحدت و مشارکت بین مردم
  - ۳) نداشتن ایمان و پشتکار و اراده برای تغییر وضع و نبودن وحدت و مشارکت بین مردم
  - ۴) جنگ‌ها و کشمکش‌های داخلی، فرهنگ و باورهای غلط، بی‌سوادی و ناآگاهی مردم
- در دوره صفویه علم تاریخ مورد توجه ..... و علوم چون ریاضیات، ادبیات و فلسفه، فراگیر و مورد توجه ..... .

- ۱) نبود - نبودند
- ۲) قرار داشت - بودند
- ۳) قرار داشت - نبودند
- ۴) نبود - بودند

در زمان .....، روسیه با ارتشی مجهز و آشنا با فنون جنگی به قلمرو ایران در قفقاز حمله کرد و در نتیجه این جنگ عهدنامه ..... به ایران تحمیل شد که به موجب آن .....

- ۱) ناصرالدین شاه - ترکمانچای - شهرهای باکو و گنجه به تصرف روسیه درآمد.
- ۲) فتحعلی‌شاه - گلستان - شهرهای باکو و گنجه به تصرف روسیه درآمد.
- ۳) ناصرالدین‌شاه - گلستان - سرزمین‌های شمالی رود ارس تحت حاکمیت روسیه قرار گرفت.
- ۴) فتحعلی‌شاه - ترکمانچای - سرزمین‌های شمالی رود ارس تحت حاکمیت روسیه قرار گرفت.

در کدام گزینه، دو منطقه ذکر شده کمترین شباهت آب‌وهوایی را با یکدیگر دارند؟

- ۱) شمال آمریکای شمالی - اسکانديناوی
- ۲) شرق اروپا - مناطق داخلی و مرکز آسیا
- ۳) شمال آفریقا - جنوب اروپا
- ۴) آمریکای مرکزی - غرب آسیا

کدام یک در سنجش توسعه انسانی کشورها محاسبه نمی‌شود؟

- ۱) درآمد سرانه
- ۲) اشتغال و بیکاری
- ۳) تولید ناخالص داخلی
- ۴) ارزش کلیه محصولات تولید شده

دوره کدام یک از شاهان صفوی با تثبیت و تحکیم این حکومت همراه بوده است و دلیل تغییر پایتخت صفویان از قزوین به اصفهان چه بود؟

- ۱) شاه‌عباس - زیرا قزوین همواره در معرض هجوم سپاه عثمانی بود.
- ۲) شاه‌طهماسب - زیرا قزوین همواره در معرض هجوم سپاه عثمانی بود.
- ۳) شاه‌عباس - زیرا اصفهان، به لحاظ جغرافیایی، موقعیت مرکزی و ارتباطی مناسب‌تری داشت.
- ۴) شاه‌طهماسب - زیرا اصفهان، به لحاظ جغرافیایی، موقعیت مرکزی و ارتباطی مناسب‌تری داشت.

کدام دو کشور در گروه کشورهای با "شاخص توسعه انسانی بالا" قرار دارند؟

- (۱) عربستان و روسیه  
(۲) آلمان و نروژ  
(۳) ایران و چین  
(۴) کانادا و آلمان

گلوله باران حرم مطهر امام رضا(ع) و کشتن تعدادی از مشروطه خواهان از پیامدهای کدام مورد زیر بوده است؟

- (۱) قرارداد ۱۹۰۷  
(۲) کشف حجاب  
(۳) قرارداد ۱۹۱۹  
(۴) به توپ بستن مجلس

نخستین حرکت جدی مردم ایران برای رهایی از نفوذ و سلطه خارجی بیگانگان چه بود و عهدنامه پاریس در زمان کدام شاه قاجار منعقد شد؟

- (۱) بسیج مردم ایران برای آزادسازی سرزمین های اشغالی ناشی از عهدنامه گلستان - فتحعلی شاه  
(۲) نهضت تنباکو - فتحعلی شاه  
(۳) بسیج مردم ایران برای آزادسازی سرزمین های اشغالی ناشی از عهدنامه گلستان - محمدشاه  
(۴) نهضت تنباکو - ناصرالدین شاه

به کدام دلیل شاه اسماعیل نتوانست در مقابل پرتغالی ها کاری از پیش ببرد و به کدام دوره در تاریخ اروپا، "قرون جدید" گفته می شود؟

- (۱) جنگ با دولت عثمانی - قرن شانزدهم تا نوزدهم  
(۲) نداشتن کشتی جنگی - قرن هفدهم تا بیستم  
(۳) جنگ با دولت عثمانی - قرن هفدهم تا بیستم  
(۴) نداشتن کشتی جنگی - قرن شانزدهم تا نوزدهم

هریک از عبارت های زیر به ترتیب از جمله اقدامات کدام شخصیت های تاریخی در دوران معاصر است؟

- الف- فرماندهی کودتای ۲۸ مرداد  
ب- پایه گذاری ارتش نوین در ایران  
ج- رهبری نهضت ملی شدن نفت  
د- تأسیس نخستین دانشگاه ایران  
ه- انعقاد قرارداد ۱۹۱۹ م. با انگلستان

- (۱) سرلشکر زاهدی - رضاشاه - آیت الله کاشانی - رضاشاه - وثوق الدوله  
(۲) امیرعباس هویدا - محمدرضا شاه - آیت الله کاشانی - محمدرضا شاه - علاءالدوله  
(۳) امیرعباس هویدا - محمدرضا شاه - دکتر مصدق - رضاشاه - علاءالدوله  
(۴) سرلشکر زاهدی - رضاشاه - دکتر مصدق - محمدرضا شاه - وثوق الدوله

نوع امتیازهای واگذار شده در کدام یک از قراردادهای زیر، با دیگر گزینه ها متفاوت است؟

- (۱) قرارداد ۱۹۱۹  
(۲) قرارداد پاریس  
(۳) قرارداد مفضل  
(۴) قرارداد داریسی

"تسریع وقوع انقلاب مشروطه"، "بست نشستن مردم تهران در سفارت انگلستان"، "انحلال مجلس ملی"

- ۱) تسلط بیگانگان بر منابع ثروت اقتصادی کشور - تشکیل مجلس شورا - مظفرالدین شاه
- ۲) ماجرای چوب و فلک کردن بازرگانان - تأسیس عدالت‌خانه - محمدعلی شاه
- ۳) ماجرای چوب و فلک کردن بازرگانان - تشکیل مجلس شورا - محمدعلی شاه
- ۴) تسلط بیگانگان بر منابع ثروت اقتصادی کشور - تأسیس عدالت‌خانه - مظفرالدین شاه

کدام رویداد مهم بین‌المللی، تأثیر منفی کمتری بر تحولات تاریخی ایران داشت؟

- ۱) انقلاب صنعتی
- ۲) انقلاب کبیر فرانسه
- ۳) جنگ جهانی اول
- ۴) جنگ جهانی دوم

میرداماد، .....، ..... و ..... از جمله فیلسوفان و عالمان بزرگ روزگار صفوی بودند.

- ۱) ملاصدرا - شیخ بهایی - علامه مجلسی
- ۲) شیخ بهایی - ملاصدرا - فارابی
- ۳) ابن‌سینا - علامه مجلسی - ملاصدرا
- ۴) شیخ بهایی - میرداماد - ابن‌سینا

مظفرالدین شاه در سال ..... فرمان مشروطه را صادر کرد و محمدعلی شاه با پشتیبانی دولت ..... تصمیم گرفت نظام پادشاهی استبدادی را دوباره برقرار کند.

- ۱) ۱۲۵۸ ش - روسیه
- ۲) ۱۲۸۵ ش - روسیه
- ۳) ۱۲۵۸ ش - انگلستان
- ۴) ۱۲۸۵ ش - انگلستان

در درس‌های کتاب مطالعات اجتماعی، برخی از دوره‌های تاریخ ایران با نام‌های ویژه‌ای مشخص شده‌اند. علت نام‌گذاری کدام عصر تاریخی درست‌تر ذکر شده است؟

- ۱) عصر طلایی فرهنگ و تمدن: برقراری روابط سیاسی و بازرگانی ایران با برخی کشورهای اروپایی
- ۲) عصر پیروزی فرهنگ بر شمشیر: حضور خاندان ایرانی برمکیان در دستگاه خلافت عباسی
- ۳) عصر یکپارچگی و شکوفایی: استقرار حکومت قدرتمند مغولان به جای حکومت‌های محلی به‌جامانده از سلجوقیان
- ۴) عصر جستجوی پیشرفت: آشنایی ایرانیان با دستاوردهای علمی و صنعتی اروپاییان

..... به کمک نیروی نظامی قزلباش‌ها، آق‌قویونلوها را شکست داد و مهم‌ترین دشمنان صفویان در غرب ..... و در شرق ..... بودند.

- ۱) شاه اسماعیل صفوی - اُزبک‌ها - عثمانی‌ها
- ۲) شاه اسماعیل صفوی - عثمانی‌ها - اُزبک‌ها
- ۳) شاه عباس اول - عثمانی‌ها - اُزبک‌ها
- ۴) شاه عباس اول - اُزبک‌ها - عثمانی‌ها

در کدام گزینه، رویداد یا جریان تاریخی اشاره شده مربوط به تاریخ اروپا با سلسله پادشاهی ذکر شده در مقابل آن هم‌زمان نیست؟

(۱) ایجاد مستعمرات توسط پیشگامان استعمار: صفویه

(۲) شکل‌گیری انقلاب صنعتی در انگلستان: افشاریه و زندیه

(۳) رواج اندیشه آزادی‌خواهی در اروپا: قاجاریه

(۴) آغاز جنگ جهانی اول: پهلوی

رهبر کودتای ۲۸ مرداد سال ۱۳۳۲ در ایران بر عهده چه کسی بود و قانون ملی‌شدن نفت در چه تاریخی به تصویب مجلس شورای ملی رسید؟

(۱) هویدا - بهمن ۱۳۲۰

(۲) سرلشکر فضل‌الله زاهدی - اسفند ۱۳۲۹

(۳) هویدا - اسفند ۱۳۲۹

(۴) سرلشکر فضل‌الله زاهدی - بهمن ۱۳۲۰

انگیزه اصلی امیرکبیر از تأسیس مدرسه دارالفنون چه بود؟

(۱) استخدام معلمان روسی، انگلیسی و اتریشی

(۲) آشنایی ایرانیان با دستاوردهای تمدن اروپایی

(۳) به‌کارگیری سیاستمداران، اندیشمندان و عالمان دینی در این مدارس

(۴) علم‌آموزی تعداد بیشتری از ایرانیان

"نوسازی ارتش"، "اصلاح تشکیلات حکومتی" و "احیای هویت دینی" به ترتیب مهم‌ترین موضوع موردنظر کدامیک از شخصیت‌های اندیشمند تاریخی در مسیر پیشرفت و سربلندی ایران بوده است؟

(۱) عباس میرزا - امیرکبیر - امام خمینی (ره)

(۲) میرزا کوچک خان - قائم‌مقام فراهانی - آیت‌الله مدّرس

(۳) ستّارخان - دکتر مصدّق - شیخ فضل‌الله نوری

(۴) رئیسعلی دلواری - سید محمّد خیابانی - آیت‌الله کاشانی


تصویر زیر چه بنایی را نشان می‌دهد و مربوط به کدام دوره است؟

(۱) حمام - زندیه

(۲) کاروانسرا - صفویه

(۳) حمام - افشاریه

(۴) زندان - قاجاریه



وقتی می‌گوییم کشور روسیه در مقایسه با هند با رشد منفی جمعیت روبه‌رو بوده است، یعنی ..... و عواملی همچون هویت و امنیت در ارزیابی شاخص توسعه انسانی به حساب ..... .

- ۱) تفاوت نرخ مولید و مرگ‌ومیر در روسیه در مقایسه با هند بیشتر بوده است - می‌آید
- ۲) تفاوت نرخ مولید و مرگ‌ومیر در هند در مقایسه با روسیه کمتر بوده است - نمی‌آید
- ۳) تفاوت نرخ مولید و مرگ‌ومیر در روسیه در مقایسه با هند کمتر بوده است - نمی‌آید
- ۴) تفاوت نرخ مولید و مرگ‌ومیر در هند در مقایسه با روسیه بیشتر بوده است - می‌آید

خاستگاه تفکر مشروطه‌خواهی کدام انقلاب بود و کدام مورد از عوامل فکری و فرهنگی وقوع انقلاب مشروطه درزمینه داخلی محسوب می‌شود؟

- ۱) انقلاب صنعتی انگلستان - فراگیری علوم و فنون جدید
- ۲) انقلاب کبیر فرانسه - آموزه‌های دین اسلام و مذهب شیعه
- ۳) انقلاب کبیر فرانسه - فراگیری علوم و فنون جدید
- ۴) انقلاب صنعتی انگلستان - آموزه‌های دین اسلام و مذهب شیعه

جنگ جهانی دوم با حمله ..... آغاز شد و دولت‌های محور در این جنگ ..... بودند.

- ۱) آلمان به لهستان - آلمان، ایتالیا و اتریش
- ۲) کشورهای اروپایی به ایتالیا - انگلستان، فرانسه و شوروی
- ۳) آلمان به لهستان - ایتالیا، ژاپن و آلمان
- ۴) کشورهای اروپایی به ایتالیا - اتریش، مجارستان و عثمانی

جنگ جهانی دوم چگونه آغاز شد و هدف اصلی متفقین از ورود به ایران چه بود؟

- ۱) با حمله ناگهانی آلمان به لهستان - بیرون راندن کارشناسان و جاسوسان آلمانی از ایران
- ۲) با بمباران اتمی ژاپن توسط آمریکا - بیرون راندن کارشناسان و جاسوسان آلمانی از ایران
- ۳) با بمباران اتمی ژاپن توسط آمریکا - استفاده از موقعیت و منابع و امکانات ایران به سود خویش
- ۴) با حمله ناگهانی آلمان به لهستان - استفاده از موقعیت و منابع و امکانات ایران به سود خویش

مفاد قرارداد ۱۹۱۹ م. میان ایران و انگلستان چه بود و مخالفان انعقاد این قرارداد چه کسانی بودند؟

- ۱) بهره‌برداری انگلستان از منابع نفت ایران - آیت‌الله مدرس و شیخ محمد خیابانی
- ۲) قرار گرفتن اداره امور نظامی و مالی ایران در اختیار مستشاران انگلیسی - شیخ فضل‌الله نوری و محمد خیابانی
- ۳) بهره‌برداری انگلستان از منابع نفت ایران - شیخ فضل‌الله نوری و آیت‌الله مدرس
- ۴) قرار گرفتن اداره امور نظامی و مالی ایران در اختیار مستشاران انگلیسی - آیت‌الله مدرس و شیخ محمد خیابانی

قرارداد تالبوت در زمان کدام شاه قاجار منعقد شد و نتیجه اجتماعی موفقیت جنبش تنباکو چه بود؟

- (۱) ناصرالدین شاه - رهایی ایران از نفوذ و سلطه خارجی
- (۲) فتحعلی شاه - رهایی ایران از نفوذ و سلطه خارجی
- (۳) فتحعلی شاه - تقویت روحیه مقاومت و مبارزه
- (۴) ناصرالدین شاه - تقویت روحیه مقاومت و مبارزه

بهموجب عهدنامه ..... ایالت‌های گرجستان و داغستان و شهرهای باکو و گنجه از حاکمیت ایران خارج شدند و تحت حاکمیت ..... قرار گرفتند.

- (۱) گلستان - انگلستان
- (۲) گلستان - روسیه
- (۳) ترکمانچای - انگلستان
- (۴) ترکمانچای - روسیه

در رابطه با قرارداد ۱۹۱۹:

- کدام کشور اروپایی سعی داشت با اجرای این قرارداد نفوذ و سلطه خود را در ایران تثبیت کند؟
- مفاد آن چه بود؟
- و کدام نتیجه را به دنبال داشت؟

- (۱) انگلستان - در اختیار قرار دادن اداره امور نظامی و مالی ایران به مستشاران انگلیسی - برخی روشنفکران و شخصیت‌های مبارز با آن مخالفت کردند، اما احمد شاه آن را تأیید کرد.
- (۲) روسیه - واگذاری امتیازهای اقتصادی به روسیه - برخی روشنفکران و شخصیت‌های مبارز با آن مخالفت کردند، اما احمد شاه آن را تأیید کرد.
- (۳) انگلستان - در اختیار قرار دادن اداره امور نظامی و مالی ایران به مستشاران انگلیسی - علما و شخصیت‌های مبارز با آن مخالفت کردند و احمد شاه نیز آن را تأیید نکرد.
- (۴) روسیه - واگذاری امتیازهای اقتصادی به روسیه - علما و شخصیت‌های مبارز با آن مخالفت کردند و احمد شاه نیز آن را تأیید نکرد.

به ترتیب انقلاب کبیر فرانسه و انقلاب مشروطه در دوره حکومت چه کسانی روی داد؟

- (۱) لطفعلی‌خان زند - مظفرالدین شاه قاجار
- (۲) فتحعلی شاه قاجار - احمد شاه قاجار
- (۳) لطفعلی‌خان زند - احمد شاه قاجار
- (۴) فتحعلی شاه قاجار - مظفرالدین شاه قاجار

کدام عبارت در مورد ایل قاجار نادرست است؟

- (۱) در دوره ناصرالدین شاه، انگلیسی‌ها قسمت شرقی سیستان و بلوچستان را از ایران جدا کردند.
- (۲) دوره حکومت فتحعلی‌شاه، هم‌زمان با آغاز نفوذ و دخالت کشورهای روسیه، انگلستان و فرانسه بوده است.
- (۳) پس از عهدنامه ترکمانچای، ایران از داشتن کشتی جنگی در دریای مازندران محروم شد.
- (۴) انقلاب مشروطه موجب رهاشدن کشور از چنگ استبداد داخلی و سلطه خارجی شد.

- (۱) شکست دادن اُزبک‌ها  
 (۲) تلاش برای گسترش تجارت خارجی و داخلی  
 (۳) رسمی کردن مذهب شیعه  
 (۴) انحصار صادرات ابریشم

۴۰ جنگ جهانی اول پس از چهار سال با پیروزی ..... به پایان رسید و در اواخر این جنگ آمریکا به ..... پیوست.

- (۱) متحدین - متفقین  
 (۲) متفقین - متحدین  
 (۳) متفقین - متفقین  
 (۴) متحدین - متحدین

۴۱ کدام مورد از اقدامات شاه اسماعیل صفوی نیست و علت شکست سپاه او در جنگ چالدران چه بود؟

- (۱) شکست دادن اُزبک‌ها در خراسان - عدم همبستگی و اتحاد میان سپاهیان  
 (۲) انتخاب قزوین به پایتختی - بی‌بهره بودن سپاه ایران از تجهیزات جنگی  
 (۳) تشکیل سپاه جدید از افراد غیر قزلباش - عدم همبستگی و اتحاد میان سپاهیان  
 (۴) رسمی کردن مذهب شیعه - بی‌بهره بودن سپاه ایران از تجهیزات جنگی

گزینهٔ صحیح را انتخاب کنید.

۴۲ انقلاب مشروطیت در زمان کدام پادشاه قاجار به اتفاق افتاد؟

- (۱) ناصرالدین شاه  
 (۲) محمدشاه  
 (۳) فتحعلی شاه  
 (۴) مظفرالدین شاه

۴۳ آشنایی ایرانیان با افکار و دستاوردهای تمدن جدید اروپا مربوط به کدام‌یک از زمین‌های انقلاب مشروطیت است؟

- (۱) زمینه‌های سیاسی  
 (۲) زمینه‌های اقتصادی  
 (۳) زمینه‌های فکری و فرهنگی داخلی  
 (۴) زمینه‌های فکری و فرهنگی خارجی

۴۴ پس از مظفرالدین شاه چه کسی به پادشاهی رسید؟

- (۱) ناصرالدین شاه  
 (۲) محمدعلی شاه  
 (۳) محمدشاه  
 (۴) فتحعلی شاه

۴۵ عباس میرزا ولیعهد کدام‌یک از شاهان قاجار بود و کدام‌یک از موارد زیر از اقدامات وی نیست؟

- (۱) ناصرالدین شاه - فرستادن افرادی به انگلستان برای فراگیری علوم و فنون جدید  
 (۲) فتحعلی‌شاه - تأسیس مدرسه‌ای به سبک مدارس اروپایی  
 (۳) ناصرالدین‌شاه - نوسازی تشکیلات حکومتی و مبارزه با مفاسد اداری و اقتصادی  
 (۴) فتحعلی‌شاه - دستور به ترجمهٔ کتاب‌هایی در موضوع تاریخ کشورهای اروپایی



پرسودترین کالای صادراتی ایران در زمان شاه عباس اول چه بود و کاروانسرای ایزدخواست در شهر آباد، به‌جامانده از دوره کدام شاه صفوی است؟

- (۱) خشکبار - شاه عباس اول  
(۲) خشکبار - شاه اسماعیل  
(۳) ابریشم - شاه عباس اول  
(۴) ابریشم - شاه اسماعیل

کدام گروه از کشورهای اروپایی از پیشگامان استعمار در قرون جدید بودند؟

- (۱) پرتغال، اسپانیا، انگلستان و فرانسه  
(۲) پرتغال، اسپانیا، هلند و فرانسه  
(۳) پرتغال، روسیه، انگلستان و فرانسه  
(۴) آلمان، اسپانیا، انگلستان و فرانسه

چند مورد از موارد زیر از جمله آثار و پیامدهای وقوع جنگ جهانی اول در ایران است؟

- قیام مردم تبریز به رهبری ستارخان و باقرخان
- مقابله نیروهای مردمی بوشهر و خوزستان با قوای اشغالگر
- گسترش نافرمانی و سرپیچی از فرمان دولت مرکزی
- وارد کردن خسارت اقتصادی به جامعه ایران
- اشغال ایران توسط متفقین در شهریور ۱۳۲۰
- تبدیل شدن برخی مناطق ایران به صحنه نبرد نیروهای روسیه و انگلستان با قوای عثمانی

- (۱) سه  
(۲) چهار  
(۳) پنج  
(۴) دو

علت اصلی رشد جمعیت جهان در دویست سال اخیر، ..... است و بر اساس آمارهای سال ۲۰۱۴ میلادی، ایران در گروه کشورهای با ..... قرار می‌گیرد.

- (۱) کاهش میزان مرگ‌ومیرها - توسعه انسانی خیلی بالا  
(۲) افزایش میزان مولید - توسعه انسانی خیلی بالا  
(۳) کاهش میزان مرگ‌ومیرها - توسعه انسانی بالا  
(۴) افزایش میزان مولید - توسعه انسانی بالا

در نتیجه موفقیت‌های سیاسی و نظامی صفویه، قلمرو آن به حدود قلمرو دوره ..... رسید و مهم‌ترین دشمنان خارجی آن‌ها ازبک‌ها در ..... و عثمانی‌ها در ..... بودند.

- (۱) سامانیان - شرق - غرب  
(۲) ساسانیان - غرب - شرق  
(۳) ساسانیان - شرق - غرب  
(۴) سامانیان - غرب - شرق

یکی از دلایل شکست ایران از روسیه در دو دوره جنگ، ..... و هدف انگلستان از جدایی سرزمین‌های شرقی ایران، ..... بود.

- (۱) عدم پایبندی دولت انگلستان به تعهدات خود در کمک به ایران - توسعه و تثبیت نفوذ خود در منطقه هندوستان
- (۲) عدم برخورداری از فنون و مهارت‌های رزمی - رسیدن به آب‌های خلیج فارس و اقیانوس هند
- (۳) عدم پایبندی دولت انگلستان به تعهدات خود در کمک به ایران - رسیدن به آب‌های خلیج فارس و اقیانوس هند
- (۴) عدم برخورداری از فنون و مهارت‌های رزمی - توسعه و تثبیت نفوذ خود در منطقه هندوستان

به ترتیب عبارات کدام گزینه در ارتباط با موارد زیر صحیح است؟  
این دوره از تاریخ ایران به دوران بازگشت استبداد شهرت دارد.  
هدف اصلی متفقین از اشغال ایران در جنگ جهانی دوم بود.

- (۱) کودتای ۱۲۹۹ و روی کار آمدن رضاخان - بیرون راندن آلمان‌ها از ایران
- (۲) دوران پس از کودتای ۲۸ مرداد - استفاده از موقعیت، منابع و امکانات ایران
- (۳) کودتای ۱۲۹۹ و روی کار آمدن رضاخان - کنار گذاشتن رضاشاه از سلطنت و تبعید او
- (۴) دوران پس از کودتای ۲۸ مرداد - استفاده از نیروهای ایرانی در جنگ به نفع خود

کدام‌یک از گزینه‌های زیر صحیح است؟

- (۱) هنگام به قدرت رسیدن صفویان، کشور ایران حکومت واحد و قدرتمندی داشت.
- (۲) شاه عباس اول، چهارمین شاه صفوی بود که حکومت صفوی را به اوج قدرت رساند.
- (۳) در دوره صفوی تنها کشاورزی و دامداری پررونق بودند.
- (۴) در دوره صفوی، شعر و ادب فارسی مانند دیگر رشته‌ها پر رونق نبود؛ اما علم تاریخ مورد توجه قرار داشت.

اولین اقدام رضاخان بعد از به قدرت رسیدن او در نتیجه کودتای ۱۲۹۹ چه بود؟

- (۱) نوسازی تشکیلات نظامی
- (۲) پایه‌گذاری ارتش نوین
- (۳) احداث راه‌آهن سراسری برای اتصال خلیج فارس به دریای عمان
- (۴) تأسیس نخستین دانشگاه ایران

کدام‌یک از عالمان و اندیشمندان بزرگی عصر صفوی نیست؟

- (۱) میرداماد
- (۲) ملاصدرا
- (۳) شیخ بهایی
- (۴) علامه امینی

در دوران کدام پدر و پسر، تسلط بیگانگان بر امتیاز نفت ایران هم لغو و هم بار دیگر تجدید شد؟

- (۱) ناصرالدین شاه و مظفرالدین شاه
- (۲) مظفرالدین شاه و محمدعلی شاه
- (۳) محمدعلی شاه و احمد شاه
- (۴) رضا شاه و محمدرضا شاه

کدام عامل از ملاک‌های توسعهٔ انسانی محسوب نمی‌شود و رشد اقتصادی کشورها را با چه چیزی اندازه‌گیری می‌کنند؟

- (۱) قدرت خرید مردم - تولید ناخالص ملی و درآمد ملی
- (۲) امید به زندگی - تولید ناخالص داخلی و درآمد سرانه
- (۳) میزان باسوادی - تولید ناخالص ملی و درآمد ملی
- (۴) عوامل اجتماعی و فرهنگی - تولید ناخالص داخلی و درآمد سرانه

سیاست کشتن شاهزادگان و جلوگیری از حکومت آن‌ها بر ولایت‌ها، شیوهٔ کشورداری بعضی پادشاهان کدام حکومت بوده است؟

- (۱) افشاریه
- (۲) صفویه
- (۳) قاجاریه
- (۴) زندیه

یک راهنمای تور گردشگری می‌خواهد به کشوری دارای شاخص بالای توسعه و فرصت‌های شغلی کافی برای او که با مشکل سالخوردگی جمعیت نیز مواجه نباشد، مهاجرت کند؛ کدام کشور زیر مقصد بهتری برای او به حساب می‌آید؟

- (۱) ترکیه
- (۲) روسیه
- (۳) آلمان
- (۴) لهستان

استرآباد، نام دیگر ..... بوده است و علت به وجود آمدن شرایط مناسب برای زندگی اجتماعی و اقتصادی در دورهٔ صفویه، ..... بوده است.

- (۱) گیلان - رونق شهرنشینی در ایران
- (۲) گرگان - وجود حکومت مرکزی نیرومند و برقراری نظم و امنیت
- (۳) گیلان - وجود حکومت مرکزی نیرومند و برقراری نظم و امنیت
- (۴) گرگان - رونق شهرنشینی در ایران

پس از کودتای ۲۸ مرداد، نفوذ و سلطهٔ ..... بر ایران افزایش یافت و هدف این دولت از ایجاد تغییرات در امور اجتماعی و اقتصادی ایران، ..... بود.

- (۱) انگلستان - افزایش نفوذ و سلطهٔ خود بر کشور
- (۲) آمریکا - افزایش نفوذ و سلطهٔ خود بر کشور
- (۳) انگلستان - جلوگیری از وقوع قیام‌های مردمی و حفظ حکومت پهلوی
- (۴) آمریکا - جلوگیری از وقوع قیام‌های مردمی و حفظ حکومت پهلوی

گزینهٔ صحیح را انتخاب کنید.

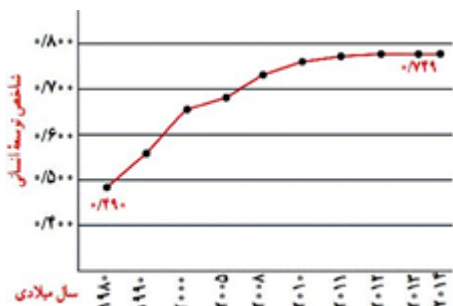
در جنگ جهانی دوم کدام‌یک از کشورهای زیر جزو متفقین بود؟

- (۱) ایتالیا
- (۲) فرانسه
- (۳) آلمان
- (۴) ژاپن

امتیاز بهره‌برداری از منابع نفت ایران در زمان مظفرالدین شاه به کدام کشور واگذار شد؟

- (۱) فرانسه  
(۲) روسیه  
(۳) آمریکا  
(۴) انگلستان

نمودار زیر افزایش شاخص توسعه انسانی را در ایران در بیست سال اخیر نمایش می‌دهد؛ کدام مورد زیر نمی‌تواند ملاک خوبی برای پی بردن به وضعیت و کیفیت زندگی در این نمودار به حساب بیاید؟



- (۱) قدرت خرید  
(۲) میزان طول عمر  
(۳) امکانات آموزشی  
(۴) میزان صادرات

کدام گزینه به ترتیب پاسخ صحیح پرسش‌های زیر در ارتباط با جریان استعمار در حکومت قاجار است؟  
الف- هدف اصلی انگلستان از برقراری ارتباط با حکومت قاجار چه بود؟  
ب- کدام دولت استعمارگر این حکومت را وادار کرد به جدایی افغانستان از ایران رضایت دهد؟  
ج- بعد از عهدنامه ترکمان‌چای، کدام قرارداد منعقد شد؟

- (۱) رسیدن به آب‌های خلیج فارس - انگلستان - عهدنامه گلستان  
(۲) حفظ مستعمره هندوستان - روسیه - عهدنامه پاریس  
(۳) رسیدن به آب‌های خلیج فارس - روسیه - عهدنامه گلستان  
(۴) حفظ مستعمره هندوستان - انگلستان - عهدنامه پاریس

نظام غیرمشرطه چه نوع حکومتی است؟

- (۱) نظام مطلقه‌ای است که در آن قدرت و اختیارات پادشاه وسیع است.  
(۲) حکومتی است که در آن اداره کشور تنها در اختیار شاه نیست و مجلس و دولت نیز در اداره کشور مشارکت دارند.  
(۳) نظامی است که در آن حرف و فرمان شاه به واسطه قانون محدود می‌شود.  
(۴) حکومتی است که در آن شاه و مجلس شورا و هیئت‌وزیران در برابر آثار و پیامدهای اقدامات خود پاسخ‌گو خواهند بود.

پاسخ سؤالات زیر به ترتیب در کدام گزینه به درستی آمده است؟

- (الف) در زمان صفویه کدام علم چندان مورد توجه نبود؟  
 (ب) کارگاه‌های بافندگی در زمان شاه‌عباس اول در کدام شهر دیده می‌شد؟  
 (ج) صنعتگران ایرانی عصر صفویه در چه صنایعی کالاهای مرغوبی تولید می‌کردند؟  
 (د) برپایی جشن‌ها و آیین‌ها در زمان صفویه چه تأثیری بر مردم داشت؟

- (۱) الف) حدیث - ب) قزوین - ج) جواهر، کاشی، منبت - د) افزایش همدلی و همبستگی مردم  
 (۲) الف) علوم فقهی - ب) گیلان - ج) چینی، جواهر، منبت - د) بالا رفتن روحیه و امید مردم  
 (۳) الف) طب - ب) مشهد - ج) چرم، صابون، رنگ - د) افزایش همدلی و همبستگی مردم  
 (۴) الف) نجوم - ب) تبریز - ج) چینی، چرم، سفال‌سازی - د) بالا رفتن روحیه و امید مردم

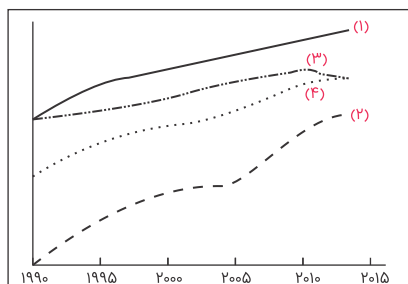
کدام یک از گزینه‌های زیر از موانع و مشکلات حکومت مشروطه نیست؟

- (۱) مخالفت و دشمنی مستبدان  
 (۲) مشکلات سیاسی و اقتصادی  
 (۳) وقوع جنگ جهانی اول  
 (۴) اختلاف و دودستگی مشروطه‌خواهان

کدام یک از گزینه‌های زیر صحیح نیست؟

- (۱) انقلاب مشروطیت جنبشی سیاسی - اجتماعی بود که در دوره حکومت مظفردالدین شاه رخ داد و به دنبال آن نظام پادشاهی مشروطه جایگزین نظام پادشاهی استبدادی شد.  
 (۲) مظفردالدین شاه در ۱۴ مرداد ۱۲۸۵ ش. فرمان مشروطه را صادر کرد و پس‌از آن مجلس شورای ملی تشکیل شد و قانون اساسی مشروطه به عجله تدوین و تصویب شد.  
 (۳) پس از به توپ بسته شدن مجلس، طرفداران مشروطه در گیلان و اصفهان راهی پایتخت شدند و پس از فتح تهران، محمدعلی شاه را برکنار کرده و پسرش احمد میرزا را جایگزین او کردند.  
 (۴) هم‌زمان با وقوع انقلاب مشروطیت در ایران، آلمان و متحدانش یعنی ایتالیا و روسیه و مجارستان به یک قدرت اروپایی تبدیل شده و در صدد دست‌اندازی بر مستعمرات دیگر کشورها بودند.

نمودار زیر، روند تغییرات شاخص توسعه انسانی جمهوری اسلامی ایران (خط ۴) و سه شاخص جزئی آن، یعنی "درآمد سرانه" (خط ۱)، "سال‌های تحصیل" (خط ۲) و "امید به زندگی" (خط ۳) را طی سال‌های ۱۹۹۰ تا ۲۰۱۵ میلادی نشان می‌دهد. در این دوره، کدام یک از سه شاخص جزئی، تأثیر کمتری در رشد شاخص توسعه انسانی کشورمان داشته است؟



- (۱) درآمد سرانه  
 (۲) سال‌های تحصیل  
 (۳) امید به زندگی  
 (۴) نمی‌توان تعیین کرد.